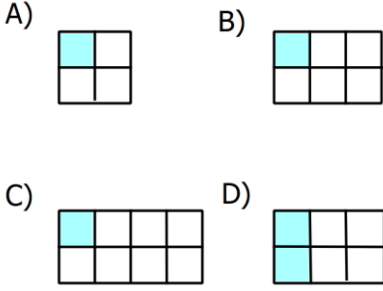
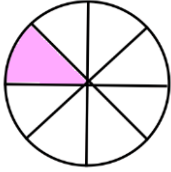


1. Aşağıdakilerden hangisi $\frac{1}{4}$ birim kesrinin modellemiş halidir?



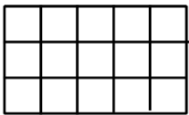
2.



Yukarıda modellenen birim kesir aşağıdakilerden hangisidir?

- A) $\frac{1}{4}$ B) $\frac{1}{6}$
C) $\frac{1}{8}$ D) $\frac{1}{10}$

3.



Yukarıdaki modelin birim kesir kadarı boyanırsa kaç kare boyanmaz?

- A) 1 B) 6
C) 11 D) 14

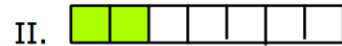
4. Bir bütün önce 2 eş parçaya sonra her parça 3 eş parçaya bölünüyor. Son durumda elde edilen eş parçalardan birinin ifade ettiği birim kesir aşağıdakilerden hangisidir?

- A) $\frac{1}{2}$ B) $\frac{1}{3}$
C) $\frac{1}{6}$ D) $\frac{1}{7}$

5. Bir pizzayı altı arkadaş eşit olarak paylaşarak yiyecektir. Buna göre bir kişinin yiyeceği pizza miktarını gösteren birim kesir aşağıdakilerden hangisidir?

- A) $\frac{1}{2}$ B) $\frac{1}{5}$
C) $\frac{1}{6}$ D) $\frac{1}{8}$

6.



Yukarıdaki modellerden hangileri birim kesir belirtmez?

- A) Yalnız I B) yalnız II
C) I ve II D) I,II ve III

7.



Sayı doğrusunda A ile gösterilen birim kesir aşağıdakilerden hangisidir?

- A) $\frac{1}{3}$ B) $\frac{1}{4}$ C) $\frac{1}{5}$ D) $\frac{1}{6}$

8.

$$\square = \frac{1}{2}, \triangle = \frac{1}{7}, \circ = \frac{1}{4}$$

Yukarıda verilen birim kesirlerin küçükten büyüğe doğru sıralaması hangisidir?

- A) $\square < \triangle < \circ$ B) $\triangle < \circ < \square$
C) $\triangle < \square < \circ$ D) $\circ < \triangle < \square$

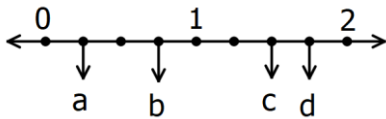
9.

$$\frac{1}{4} < a < \frac{1}{8}$$

Yukarıda verilen sıralamaya göre a birim kesri aşağıdakilerden hangisi olabilir?

- A) $\frac{1}{3}$ B) $\frac{1}{4}$ C) $\frac{1}{6}$ D) $\frac{1}{9}$

10.



Sayı doğrusunda harflerle ifade edilen kesirlerden hangileri birim kesirdir?

- A) a B) b
C) c D) d

11. Aşağıdaki ifadelerden hangisi doğrudur?

- A) $\frac{1}{6} < \frac{1}{11}$ B) $\frac{1}{10} < \frac{1}{15}$
C) $\frac{1}{7} < \frac{1}{4}$ D) $\frac{1}{15} > \frac{1}{20}$

12. Sayı doğrusunda a ile gösterilen kesirlerden hangisi birim kesir değildir?

- A) B)
C) D)

13.

$$\frac{1}{10} < \frac{1}{a} < \frac{1}{19}$$

Yukarıda verilen sıralamaya göre a yerine aşağıdaki sayılardan hangisi yazılamaz?

- A) 12 B) 14
C) 17 D) 19

14. Mehmet haftalığının $\frac{1}{6}$ sını kırtasiyeye, $\frac{1}{3}$

ünü ulaşım, $\frac{1}{5}$ ini kantine, $\frac{1}{8}$ sinemaya harcamıştır. Kalan parasını ise kumbaraya atmıştır. Buna göre en az parayı nereye harcamıştır?

- A) Kırtasiye B) Ulaşım
C) Kantin D) Sinema